



هو الطیف

اداره آموزش و پرورش خراسان رضوی

نام و نام خانوادگی:

نام درس: ریاضی

آموزش و پرورش ناحیه ۶

پایه تحصیلی:

تاریخ آزمون:

دبستان غیر دولتی دخترانه ی ترنج دانش

نام معلم: خانم بخشی

مدت آزمون:

سال تحصیلی

۱- ۵ ده تایی و ۳ یکی ۴ صدتایی می شود

۱۶ یکی ۱۳ ده تایی و ۴ صدتایی می شود


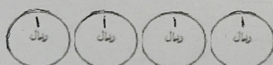
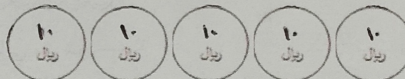
۲- الگویابی کن .

۳۴۰ - ۳۴۵ - ۳۵۰ - - - -

۲۴۰ - ۲۴۵ - ۲۵۰ - - - -

۳ - ۹ - - -
+۲ +۲
+۲ +۲

۳- این پول ها را با هم جمع کن و بنویس.



۴- زهرا ۶۸۵ تومان پول داشته است. ۲۵۲ تومان آن را خرج کرده است. چقدر از پولش باقی مانده است؟ (از راه ضربندگی)

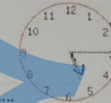
۵- مقایسه کن. < = >

۵۰ + ۱۰۰ + ۱۰۰ ○ ۲۰۰ + ۵۰

۷۰۰ - ۵۰۰ ○ ۴۰۰ - ۱۰۰


۶- سارا دیروز ۱۲۴ صفحه از کتابش را خواند و امروز نیز ۱۸۶ صفحه ی دیگر خواند. او روی هم چند صفحه خوانده است؟ (از راه ساده)

۷- هر ساعت را ۱۰ دقیقه جلو ببر و بنویس.








۳ ساعته متر و ۴ میلی متر

۵ ساعته متر و ۱ میلی متر



----- ساعته متر ----- قسمت از ۱۰ قسمت کوچک

----- ساعته متر ----- قسمت از ۱۰ قسمت کوچک




تا ----- تایی می شود -----

تا ----- تایی می شود -----

۱۰- اعداد داخل جدول را تقریبی حساب کرده و بنویس.

کلاس پنجم	کلاس چهارم	کلاس سوم	کلاس دوم	کلاس اول	تعداد شاگردان هر کلاس تقریب
۶۳ نفر	۵۹ نفر	۲۷ نفر	۴۲ نفر	۳۴ نفر	

۱۱- در نمودار زیر برای هر ۱۰ نفر بکش.



کلاس پنجم کلاس چهارم کلاس سوم کلاس دوم کلاس اول